















Exercice de calcul

Difficulté : ★★●●●●

Les numéros indiqués ci-dessous correspondent à différents appareils de la Rega.
Utilise-les pour résoudre les calculs !

	=	8
	=	7
	=	5



- A)  +  =
- B)  +  -  =
- C)  +  +  =
- D)  -  +  =
- E)  +  -  =

© 2023 – Garde aérienne suisse de sauvetage Rega

